



وزارة التربية  
إدارة الشؤون التعليمية  
مناقشة الامتحانات وشؤون الطلبة



نموذج الإجابة  
المرحلة الابتدائية

اختبارات نهاية الفصل الدراسي الأول

( منهج كامل )

المادة : الاجتماعيات

الصف : الخامس

العام الدراسي

2016 / 2017





وزارة التربية  
الإدارة العامة لمنطقة مبارك الكبير التعليمية  
التوجيه الفني للاجتماعيات  
الإجابة النموذجية امتحان نهاية الفصل الدراسي الأول لبلادي الكويت الصف الخامس  
العام الدراسي: ١٦-٢٠١٧م  
الفصل الدراسي: الأول  
عدد أوراق الامتحان: ٤




السؤال الأول: يتكون من ( أ ، ب ) : ( كل سؤال موضوعي درجة : ٢٤ = ١ × ٢٤ درجة )

أ- أكمل العبارات التالية بما يناسبها مما درست :

- ١- أهم الأودية الجافة في الكويت يسمي وادي الباطن ص ٢٦
- ٢- الأمطار الرعدية التي تسقط على الكويت في مارس وابريل ومايو تسمى السرايات ص ٣٣
- ٣- أراض منخفضة قليلة المياه تنمو فيها النباتات الملحية تسمى السبخات ص ٢٧
- ٤- يعتبر نبات العرفج من النباتات المعمرة ص ٤٠
- ٥- الحيوان الذي يطلق عليه سفينة الصحراء يسمى الجمل ص ٤٤
- ٦- موقع القارة أو الدولة بالنسبة لخطوط الطول ودوائر العرض يسمى الموقع الفلكي ص ١٩

ب- اختر الخيار الصحيح من بين الخيارات التي تلي كل عبارة بوضع خط تحتها :

- ١- تقع دولة الكويت ضمن الإقليم : ص ٣٥  
المعتدل      الصحراوي      القطبي      الاستوائي
- ٢- يبلغ عدد دوائر العرض : ص ١٨  
٦٠ دائرة      ٩٠ دائرة      ١٨٠ دائرة      ٣٦٠ دائرة
- ٣- اكتشاف أول بئر نفطي في منطقة تسمى : ص ٥٠  
الروضتين      الأحمدى      برقان      بحره
- ٤- حصلت دولة الكويت على استقلالها في عام : ص ٥٣  
١٩٦١ م      ١٩٦٢ م      ١٩٦٣ م      ١٩٦٤ م
- ٥- الموسم الذي يكون بداية الأمطار ويبشر بظهور الفقع : ص ٣٦  
الثريا      المربعانية      سهيل      الوسم



الحرارة

سرعه الرياح

الرطوبة

الضغط الجوي

٦- الصورة التالية تعبر عن جهاز يقيس : ص ٣٣

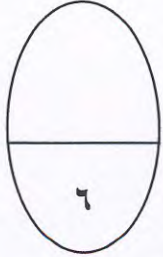




السؤال الثاني : يتكون من ( أ ، ب ) :

أ- ضع علامة (√) أمام العبارة الصحيحة وعلامة (x) أمام العبارة الخاطئة :

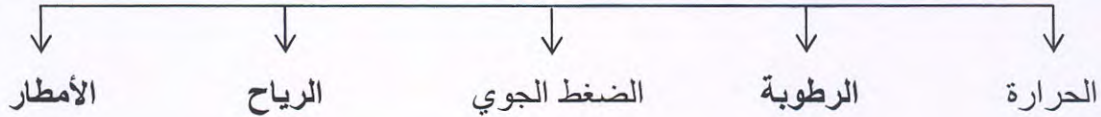
- ١- الحاكم العاشر لدولة الكويت الشيخ أحمد الجابر الصباح . ( / ) ص ٥٠
- ٢- يبلغ عدد خطوط الطول ١٨٠ خطاً . ( x ) ص ١٨
- ٣- يتميز سكان شبه الجزيرة العربية بعلوم الفلك . ( / ) ص ٣٦
- ٤- تصدير أول شحنة من النفط عام ١٩٤٦ م . ( / ) ص ٥٠
- ٥- يبدأ سقوط المطر في الكويت في شهر أغسطس . ( x ) ص ٣٣
- ٦- يتوسط ساحل دولة الكويت خليج صغير يعرف باسم خليج عمان . ( x ) ص ٢٧



ب- يتكون من ( أ - ب ) :

أ- أكمل المخطط السهمي التالي :

\* عناصر المناخ . ص ٣٣



ب- اختر من القائمة ( أ ) ما يناسبها من القائمة ( ب ) بوضع الرقم المناسب في المكان المناسب :

ص ٣٦

الرقم	القائمة ( أ )	الرقم المناسب	القائمة ( ب )
١	الثريا	٣	استمرار الحرارة وبداية الرطوبة
٢	الجوزاء	٢	رياح السموم وتكون شديدة الحرارة
٣	المرزم	١	البوارح حيث يثار فيها الغبار
		-	ينكسر الحر وتنخفض درجة الحرارة



السؤال الثالث : يتكون من ( أ ، ب ) :

( ١ × ٤ = ٤ درجات )

أ- فسر المفاهيم الآتية :

١. امتياز النفط . ص ٥٠

إعطاء الدولة حق البحث والتنقيب عن النفط وبيعه لشركة أجنبية متخصصة تشارك الدولة في قسط العائدات المالية لمدة معينة.

٢. نباتات حولية . ص ٤٠

هي نباتات تتكاثر بعد سقوط المطر وتكتمل دورة حياتها في فترة زمنية قصيرة.

٣. الدستور . ص ٥٢

عبارة عن وثيقة مكتوبة تتكون من مجموعة من المواد التي تنظم العلاقة بين الحاكم والمحكوم وتحدد حقوق وواجبات المواطنين نحو وطنهم.

٤. الكثبان الرملية . ص ٢٧

هي تلال من الرمال تتراكم في الصحاري بفعل الرياح.

ب- عدد الانجازات الداخلية والخارجية للشيخ عبدالله السالم الصباح . ص ٥٢

( ١ × ٤ = ٤ درجات )

انجازات خارجية	انجازات داخلية
(١) إلغاء معاهدة الحماية واستبدالها بمعاهدة تعاون و صداقة مع بريطانيا. (٢) الانضمام للجامعة العربية ١٩٦١م. (٣) الانضمام لهيئة الأمم المتحدة ١٩٦٣م.	(١) رفع العلم الجديد لدولة الكويت. (٢) صدور عملة جديدة هي الدينار الكويتي. (٣) إنشاء المجلس التأسيسي عام ١٩٦٢م. (٤) إجراء أول انتخابات نيابية وافتتاح مجلس الأمة ١٩٦٣م.





( ١ × ٤ = ٤ درجات )

السؤال الرابع : يتكون من ( أ ، ب ) :

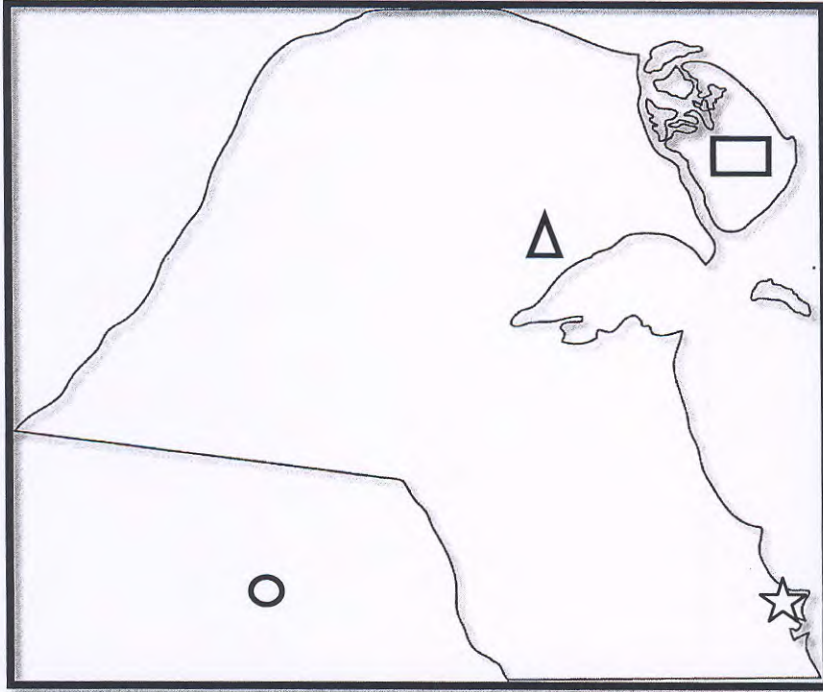
أ- علل لما يأتي :

١. أهمية مواقع النجوم . ص ٣٦  
معرفة الاتجاهات الأصلية و معرفة أحوال المناخ.
٢. اختلاف المناخ بين مناطق العالم . ص ٣٤  
للموقع بالنسبة لدوائر العرض وتوزيع اليباس والماء والارتفاع عن مستوى سطح البحر .
٣. انتشار ظاهرة التصحر في دولة الكويت . ص ٤٧  
الإفراط بالرعي الجائر
٤. تسمية موسم الربيع بهذا الاسم . ص ٣٧  
شدة البرد وانخفاض الحرارة لمدة ٤٠ يوما.



ب- أمامك خريطة دولة الكويت الصماء حدد عليها ما يلي : ص ٢٦

( ١ × ٤ = ٤ درجات )



١. جزيرة بوبيان. □
٢. جال الزور. △
٣. الخيران. ☆
٤. المملكة العربية السعودية. ○